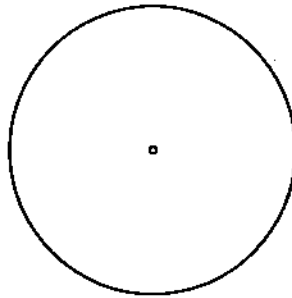
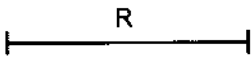
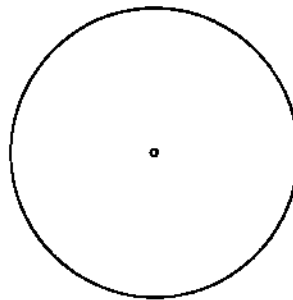
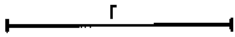


Dada una recta y una circunferencia de radio r , trazar las circunferencias de radiodado R (mayor al radio de la dada) tangente a ambas.



Dadas dos circunferencias trazar las circunferencias de radio dado r tangentes a ambas.



Apellido Apellido, Nombre

Fecha

NOTA

Nº Lista y grupo

LAMINA 3

Título de la lámina

Tangencias Básicas con cuatro soluciones