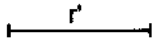



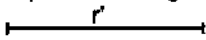
Dados dos puntos, traza las circunferencias que pasan por estos con un radio r'



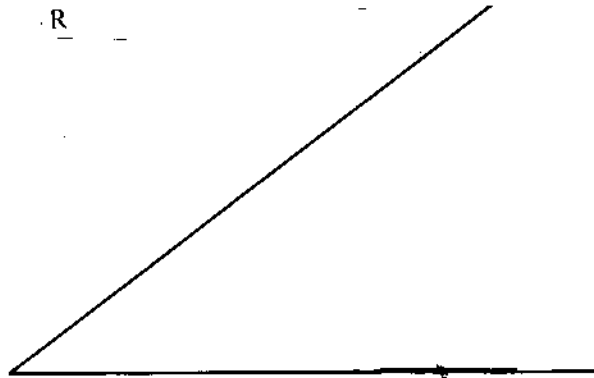

Traza la circunferencia que pasa por los tres puntos dados



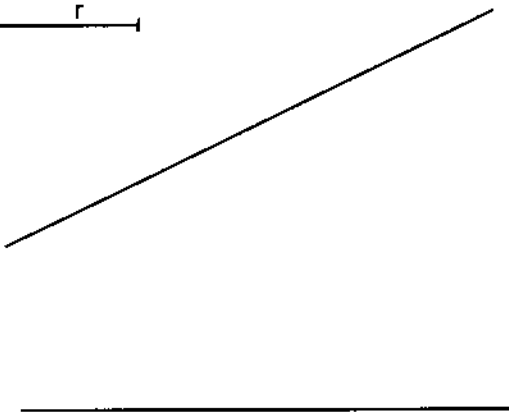
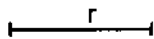
Trazar la circunferencia con radio r' tangente a la recta por el punto de tangencia dado sobre ella



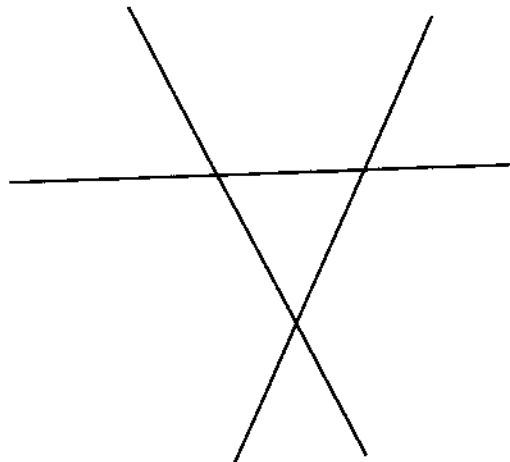
Dadas dos rectas traza la circunferencia de radio R tangente a ambas



Traza la circunferencia de radio r tangente a ambas rectas.



Traza las circunferencias tangentes a las tres rectas.



Apellido Apellido, Nombre

Fecha

NOTA

Nº Lista y grupo

LAMINA 1

Título de la lámina

Las tangencias problemas básicos
una, dos o tres rectas o puntos.