



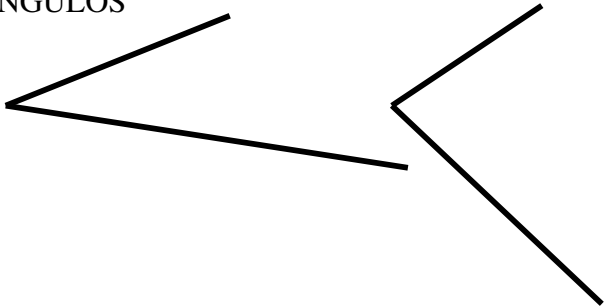
DIBUJA UN TRIANGULO EQUILATERO QUE TENGA COMO LADO EL SEGMENTO AB



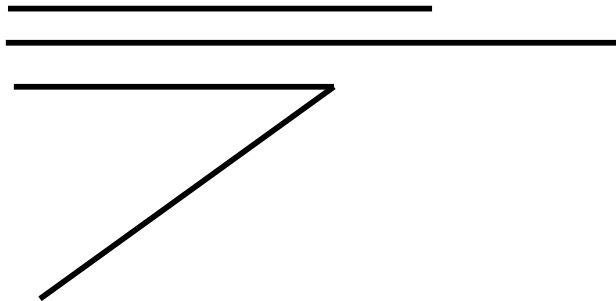
DIBUJA EL TRIANGULO QUE TIENE COMO LADOS LOS SIGUIENTES SEGMENTOS



DIBUJA EL TRIANGULO QUE TIENE COMO LADO EL SEGMENTO AB Y ESTOS DOS ANGULOS



DIBUJA EL TRIANGULO QUE TIENE COMO LADOS ESTOS DOS SEGMENTOS Y ESTE ANGULO



LAMINA **4**

NOMBRE Y APELLIDOS:

GRUPO **1º**

DEPARTAMENTO DE PLÁSTICA DEL IES "SUEL" Prof. Miguel Ángel

Nº DE LISTA: